

# ВОПРОС № 1

Определите, исходя из данных таблицы, какой город расположен в наиболее континентальном секторе климата

А. Город № 2

В. Город № 4

С. Город № 5

Д. Город № 8

	Средняя температура месяца в градусах							
	Город № 1	Город № 2	Город № 3	Город № 4	Город № 5	Город № 6	Город № 7	Город № 8
июль	19	24	14	22	21	9	29	18
январь	−8	−19	−10	−17	−4	−28	−2	−5

## ВОПРОС № 2

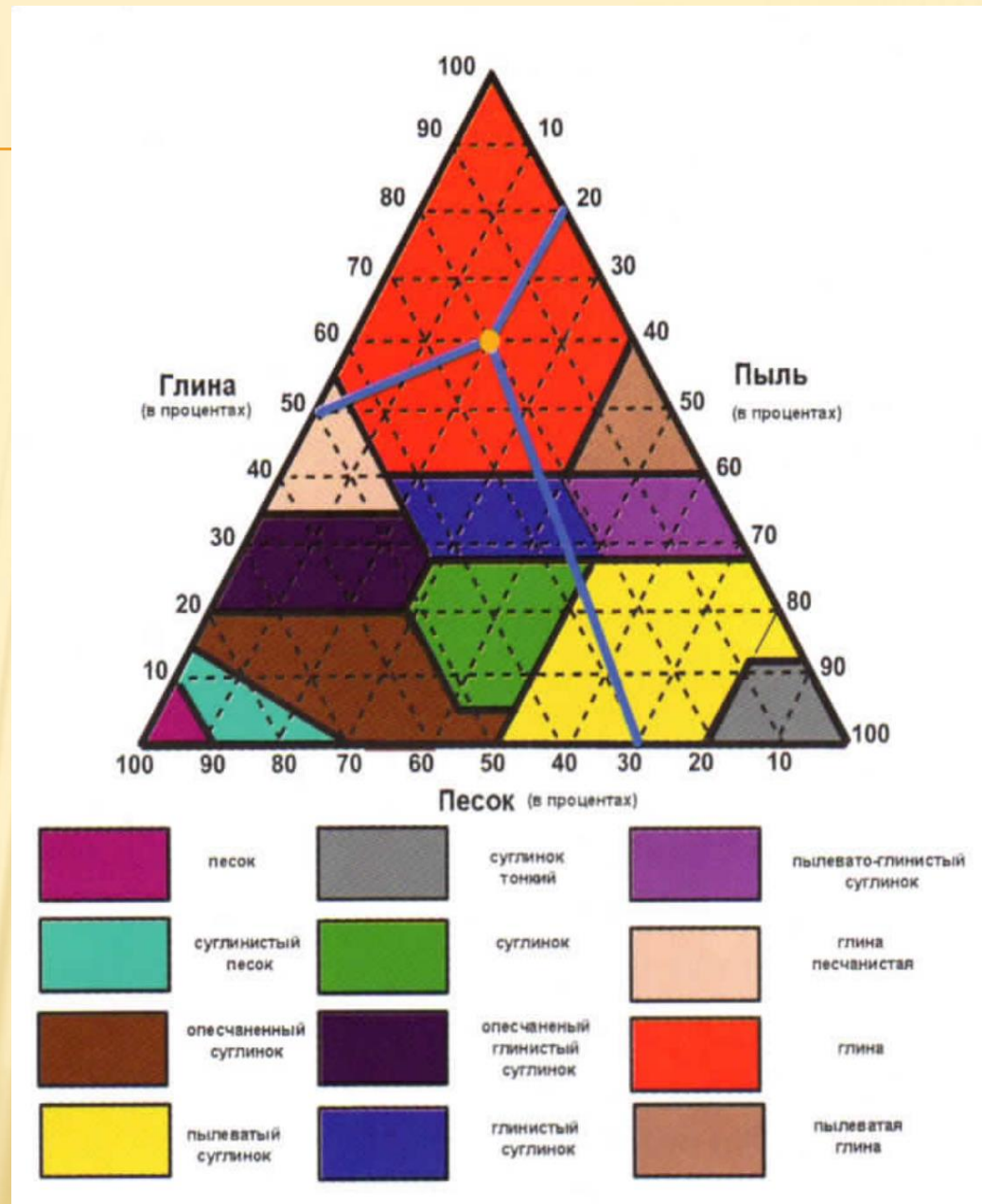
Назовите грунт, состоящий из 30% глинистых, 40% - из песчаных и 70% - из пылеватых частиц?

А. глина песчаная

В. суглинистый песок

С. пылеватая глина


**Д. глинистый суглинок**



## ВОПРОС № 3

На политической карте мира происходят изменения названий государств, столиц и населенных пунктов. Как называется сейчас государство Берег Слоновой Кости?

- А) Буркина-Фасо
- В) Кабо-Верде
- С) Кот-д'Ивуар
- Д) Джибути





## ВОПРОС № 4

Как называется изображённая на фото геологическая структура?

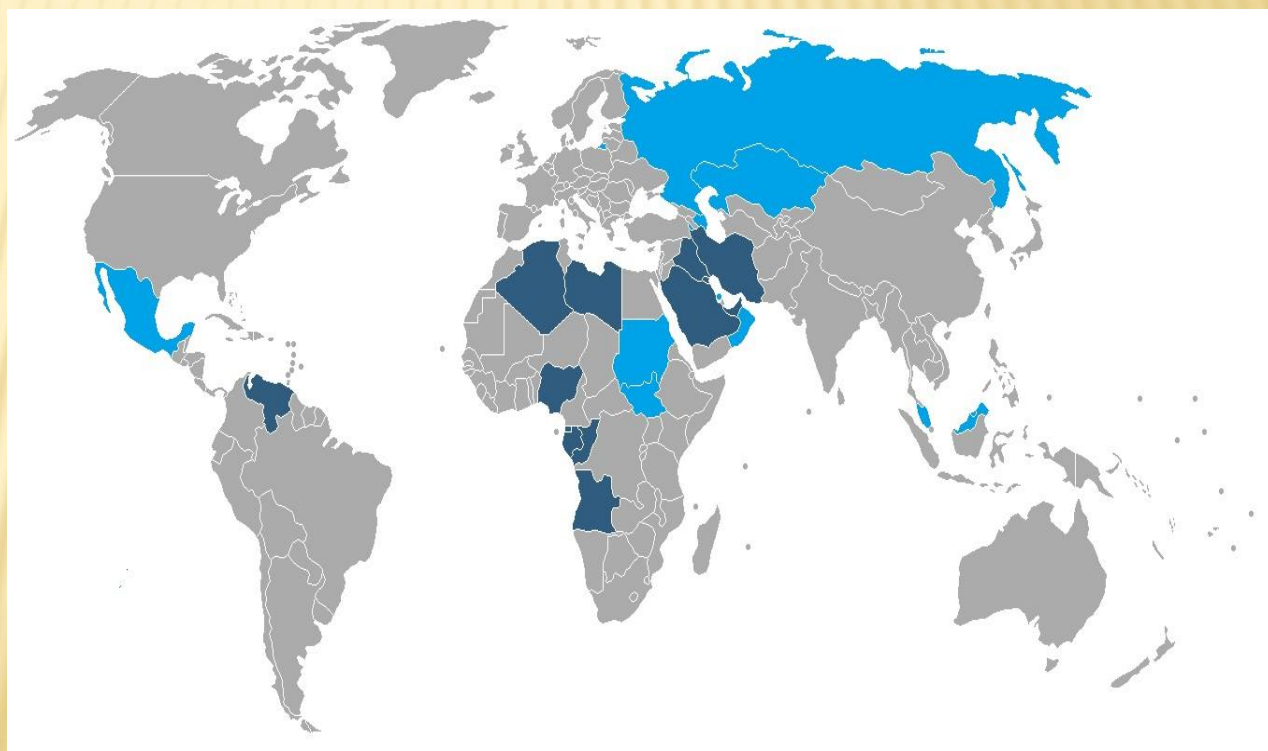
- A) плита
- B) платформа
- C) горст
- D) грабен



## ВОПРОС № 5

Как называется организация, объединяющая все выделенные синим и темно-синим цветом страны на карте?

- A) ОБСЕ
- B) НАТО
- C) ОПЕК
- D) ШОС





## ВОПРОС № 6

Что изображено на фотографии?

- А) амфитеатр
- В) медный карьер**
- С) геологическое образование
- Д) место падения метеорита

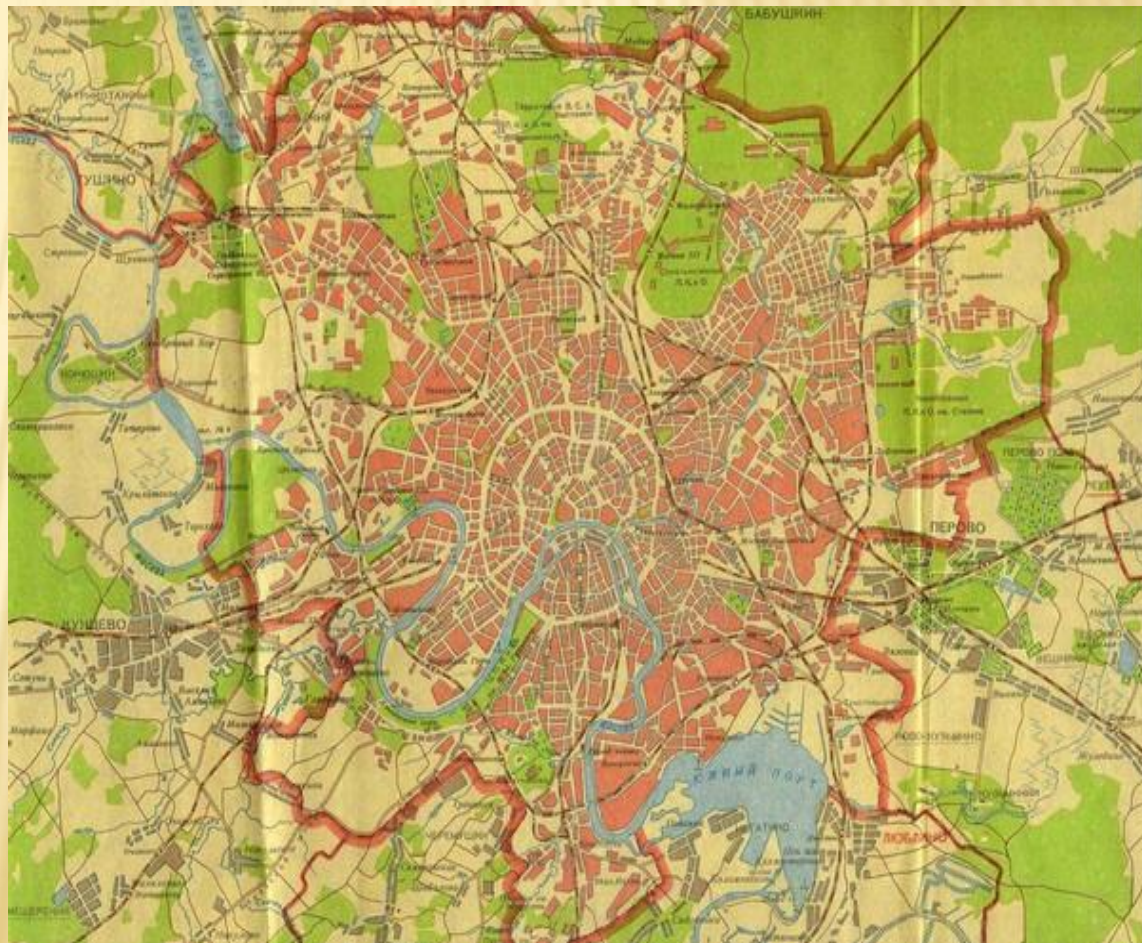




## ВОПРОС № 7

Как называется тип планировочной структуры города, представленный на картинке?

- А) линейный
- В) шахматный
- С) иррегулярный
- Д) радиально-кольцевой**



## ВОПРОС № 8

Определите флаги стран слева направо



- А) ОАЭ, Иордания, Сирия
- В) Сирия, Ирак, Египет**
- С) Кувейт, Сирия, Иордания
- Д) Саудовская Аравия, Египет, Оман



# ВОПРОС № 9

В каких городах Италии пройдут зимние олимпийские игры в 2026 г.?



А) Милан, Кортина –д  
Ампеццо

В) Рим, Неаполь

С) Генуя, Пиза

Д) Венеция, Болонья

## ВОПРОС № 10

Определите по контуру стран и по флагам, страны, не имеющие выхода к океану? (слева-направо)



- А) Буркина-Фасо, Руанда, Бурунди
- В) Ботствана, Бурунди, Чад
- С) Замбия, Лесото, Буркина-Фасо**
- Д) Зимбабве, Чад, Лесото



# ВОПРОС № 11


По фотографиям определите  
область Казахстана?

А) Улытауская

С) Туркестанская

В) **Жамбылская**

Д) Жетысуская





## ВОПРОС № 12

На каком рисунке представлена антропогенная форма рельефа?


A



C



B



D





# ВОПРОС № 13

Что означает условный знак **Н** на синоптических карт?

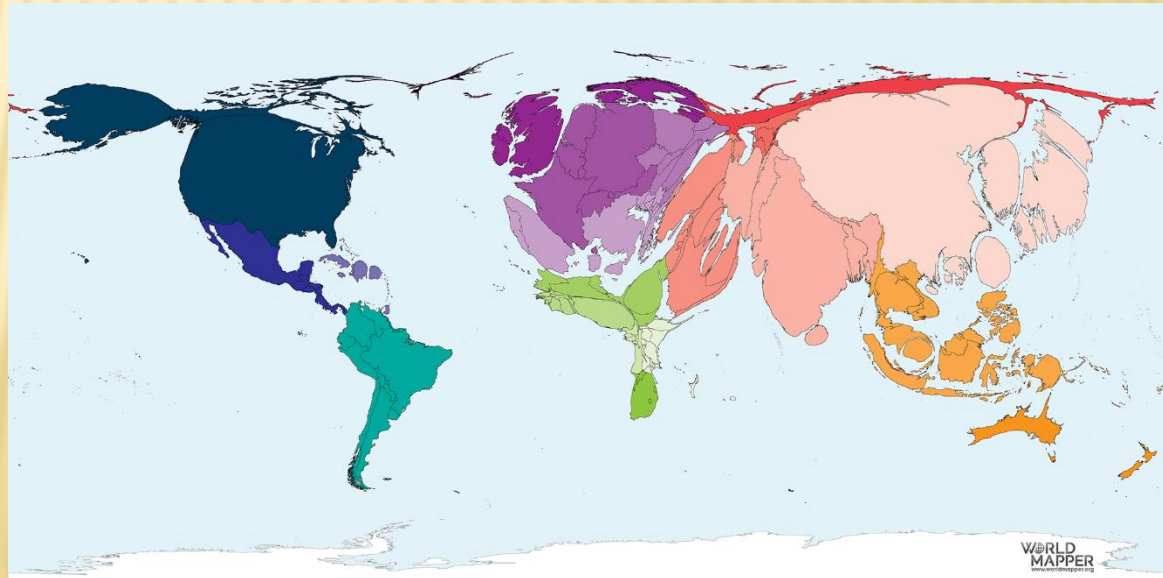
- А) область высоких температур воздуха
- В) область низких температур воздуха
- С) область высокого атмосферного давления
- Д) область низкого атмосферного давления



## ВОПРОС № 14

Что показывает данная карта-анаморфоза?

- А) **Валовой внутренний продукт**
- В) Уровень безработицы
- С) Эмиграционные процессы
- Д) Грамотность населения





## ВОПРОС № 15

Минерал синего цвета со стеклянным блеском, хрупкий?

А) Малахит

В) Кварц

С) Оникс

Д) Азурит





# ВОПРОС № 16

На каком рисунке представлена природная зона – терраи?

A



C



B



D

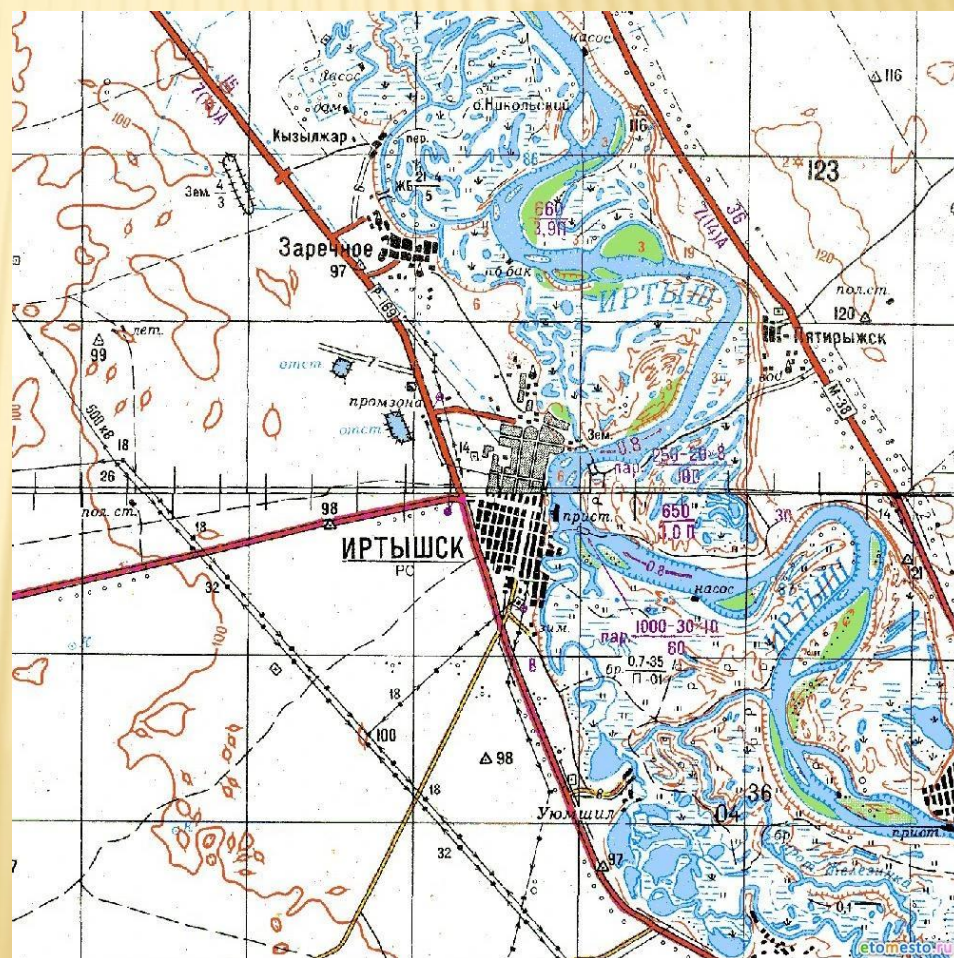




# ВОПРОС № 17

Укажите характер грунта  
реки Иртыш на данной  
топокарте?

- А) Каменистый
- В) Твердый
- С) Песчаный
- Д) Вязкий



## ВОПРОС № 18

Определите страну по национальному составу?

- А) Лаос
- В) Бангладеш
- С) Таиланд
- Д) Камбоджа

95,6%	Кхмеры
2,4%	Тямы
1,5%	Китайцы
0,2%	Вьетнамцы
0,3%	Остальные



## ВОПРОС № 19

Какое озеро показано  
выделенным синим цветом?

- А) Мичиган
- В) Гурон
- С) Верхнее
- Д) Эри



## ВОПРОС № 20


Какой силуэт города представлен на рисунке?

А) Вена

С) Прага

В) Амстердам

Д) Берлин





# ВОПРОС № 21

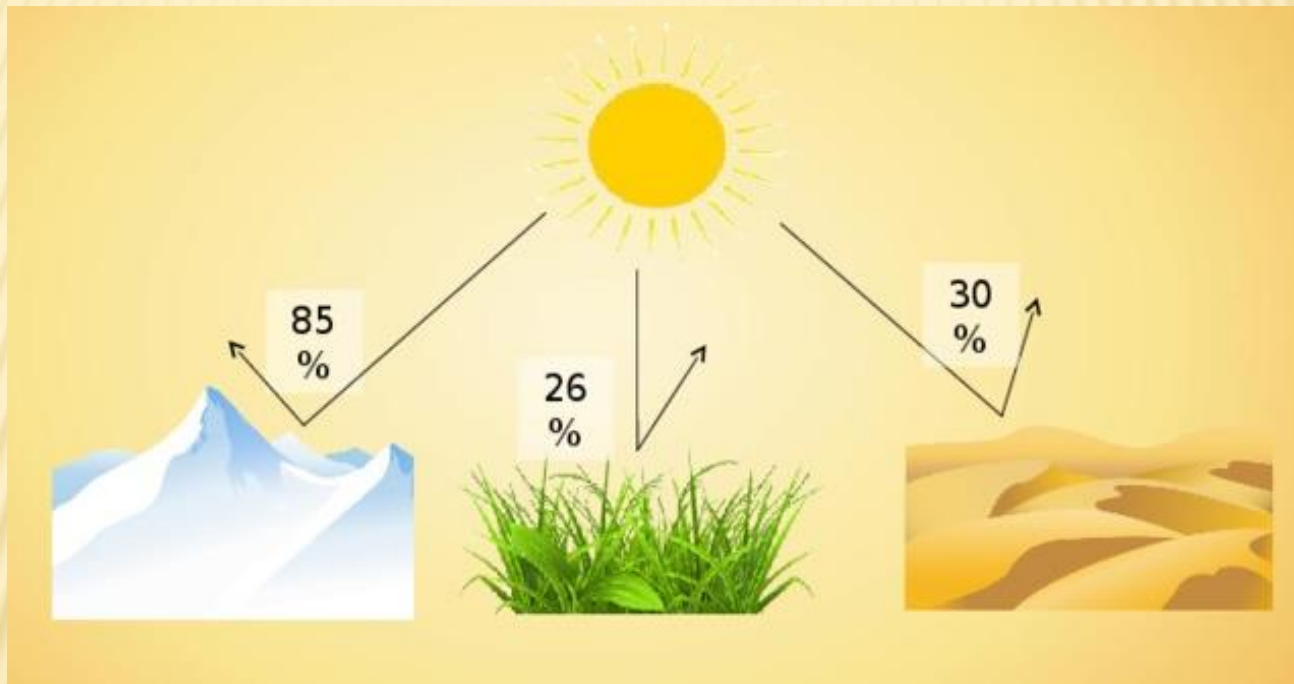
Единственное море без побережья. Оно со всех сторон окружено Атлантическим океаном. Ограничено это море четырьмя течениями: Северным Пассатным на юге, Северо-Атлантическим – на севере, Канарским – на востоке и Гольфстримом – на западе.



- А) Саргассово**
- В) Карибское
- С) Аравийское
- Д) Берингово

# ВОПРОС № 22

Укажите климатообразующий фактор, показанный на рисунке.



- А) антропогенный фактор;
- В) сила притяжения Луны;
- С) влияние космических сил;
- Д) подстилающая поверхность.**



# ВОПРОС № 23

Один из первых металлов, хорошо освоенных человеком из-за доступности для получения из руды и малой температуры плавления. Чили-мировой лидер по добыче этого металла. Этот металл также производится в больших количествах в России, Австралии, Канаде, Китае и Перу. Найдите этот металл.


A)



B)



C)

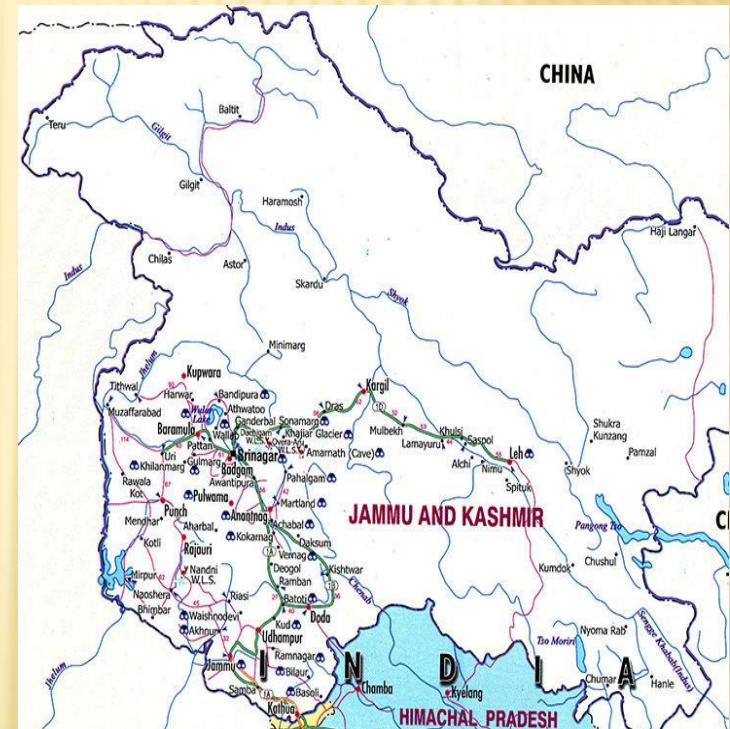


D)



# ВОПРОС № 24

Приграничные конфликты в штатах Джамму и Кашмир происходят между государствами:



- А) Ираном и Ираком
- В) Индией и Бангладеш
- С) Афганистаном и Пакистаном
- Д) Индией и Пакистаном**



# ВОПРОС № 25

Главные морские ворота Западной Европы – это:



- A) Роттердам**
- В) Глазго
- С) Гамбург
- Д) Новый Орлеан

# ВОПРОС № 26

*Как называется рельеф скалистой вершины, показанный на рисунке?*




А) нунатак      В) фирн      Г) карст      Д) ледниковый цирк



# ВОПРОС № 27

*Выберите страну, к которой принадлежат географические объекты на рисунке*



А) Аргентина   В) Колумбия   С) Мексика   Д) Чили



# ВОПРОС № 28

*В результате какого процесса сформировался тип берега на рисунке?*



А) аккумуляция В) конвергенция

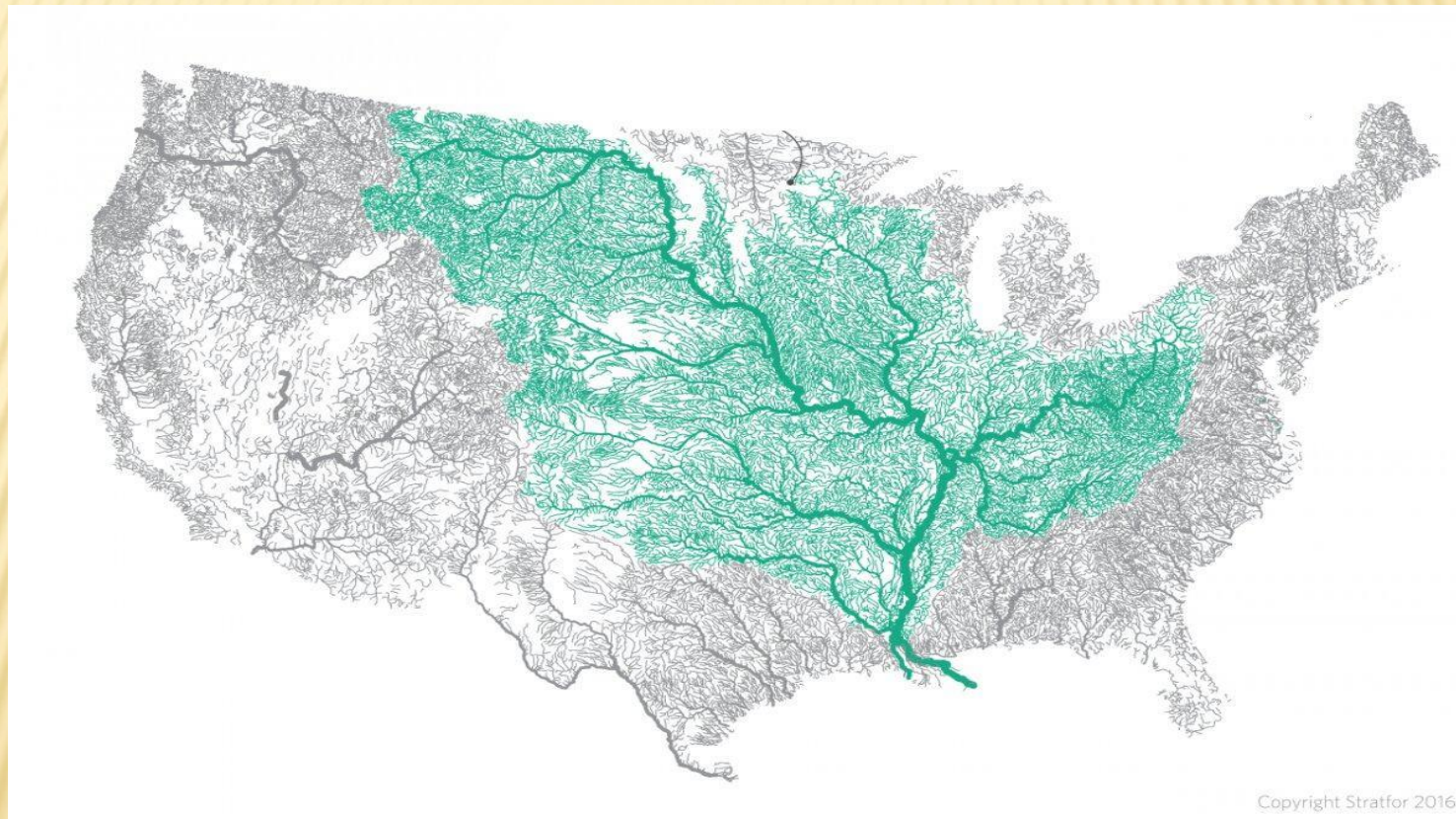
С) абразия

Д) солифлюкция



# ВОПРОС № 29

*Во время урагана «Исаак», река потекла в обратном направлении. Определите реку, бассейн которой изображен на рисунке.*



Copyright Stratfor 2016

- А) Колорадо    В) Миссисипи    С) Теннесси    Д) Юкон

# ВОПРОС № 30

*Страна является мировым лидером в области логистики. На рисунке приведены крупнейшие логистические компании страны. Определите страну.*



А) Австрия

В) Нидерланды

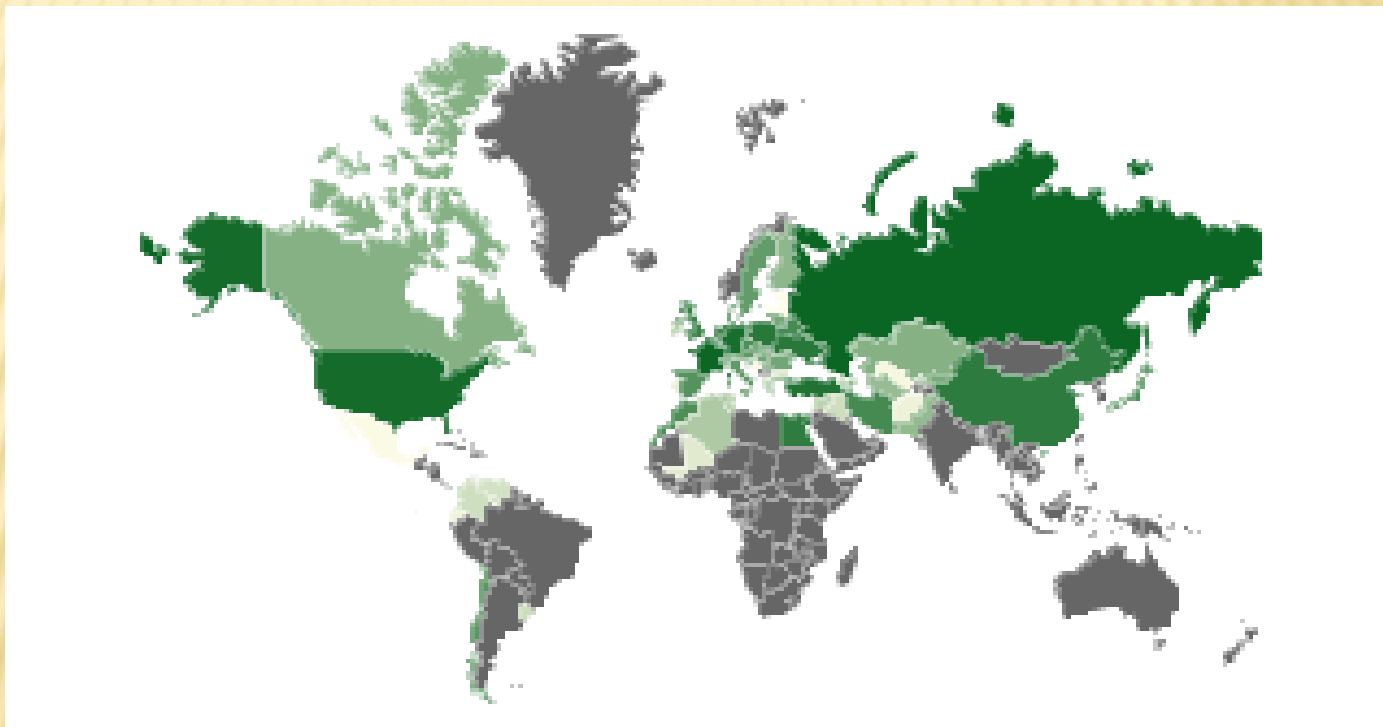
С) Франция

Д) Германия



## ВОПРОС № 30

*На рисунке показаны страны-лидеры по производству этой технической культуры. Определите техническую культуру.*



А) хлопок

В) рапс

С) сахарная свекла

Д) джут